

Tarea 1.2.1 -¿Qué hora es?

Nombre: _____

Clase: _____

A. Escriba la hora que está indicado por cada reloj.

1.



6.



2.



7.



3.



8.



4.



9.



5.

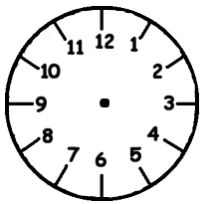


10.



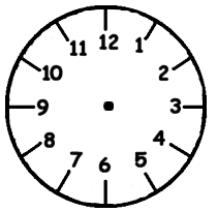
Tarea 1.2.1 -¿Qué hora es?

B. Draw the hands on the clocks according to the times indicated.



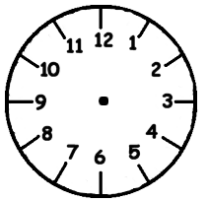
1.

Son las once menos veinticinco.



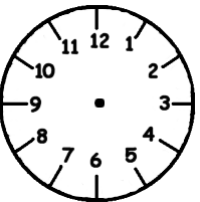
2.

Es la una y cinco.



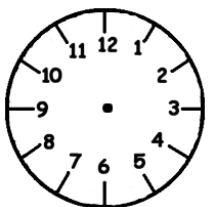
3.

Son las tres y cuarto.



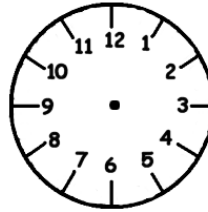
4.

Son las cinco menos veinte.



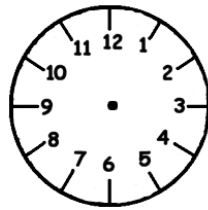
5.

Es la una menos diez.



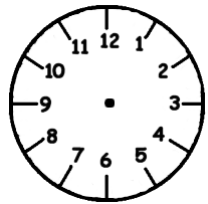
6.

Es mediodía.



7.

Son las doce y media.



8.

Son las diez y diez.